

MATEMÁTICAS

SOLUCIONES al 1^{er} examen de la 3^a evaluación

Ejercicio nº 1.-

Estudia, según los valores del parámetro a , el siguiente sistema homogéneo. Resuélvelo en los casos en los que sea posible:

$$\begin{cases} 4x - 4z = 0 \\ x - y + az = 0 \\ x + ay + z = 0 \end{cases}$$

Solución:

Estudiamos el rango de la matriz de los coeficientes:

(Hemos simplificado la 1ª ecuación, dividiéndola entre 4).

$$A = \begin{pmatrix} 1 & 0 & -1 \\ 1 & -1 & a \\ 1 & a & 1 \end{pmatrix} \rightarrow |A| = -a^2 - a - 2 = -(a^2 + a + 2)$$

$$|A| = 0 \rightarrow a = \frac{-1 \pm \sqrt{1-8}}{2} \rightarrow \text{No tiene solución} \rightarrow |A| \neq 0 \text{ para cualquier valor de } a.$$

Por tanto, como el sistema es homogéneo, tiene como solución única $x = 0, y = 0, z = 0$, cualquiera que sea el valor de a .

Ejercicio nº 2.-

Halla el área del recinto limitado por la curva $y = x^2 - x - 20$ y el eje X , en el intervalo $[0, 6]$.

Solución:

- Puntos de corte con el eje X :

$$x^2 - x - 20 = 0 \rightarrow x = \frac{1 \pm \sqrt{1+80}}{2} = \frac{1 \pm 9}{2} \rightarrow \begin{cases} x_1 = -4 \\ x_2 = 5 \end{cases}$$

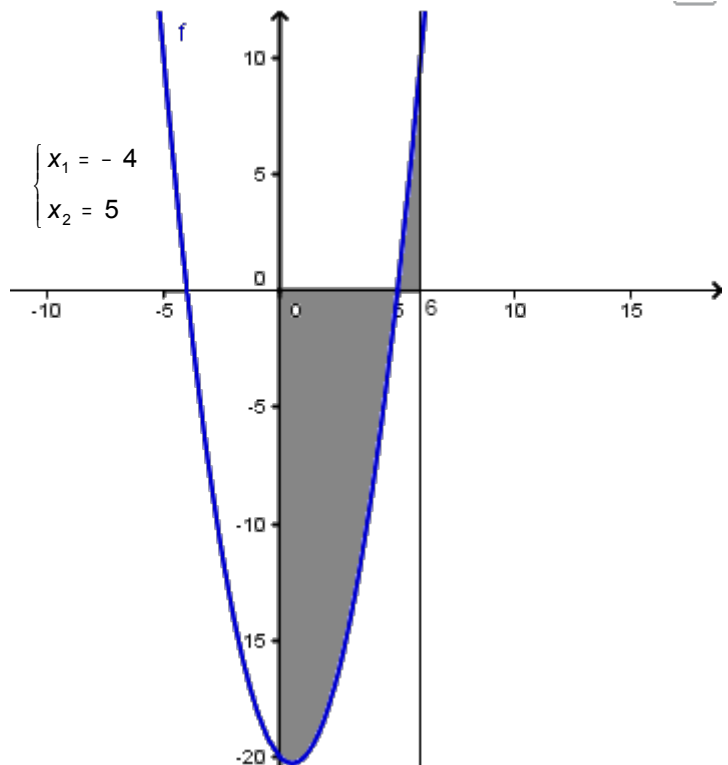
(Solo nos sirve $x = 5$)

- Hay dos recintos: I $[0, 5]$, II $[5, 6]$

$$\bullet G(x) = \int (x^2 - x - 20) dx = \frac{x^3}{3} - \frac{x^2}{2} - 20x + k$$

$$\bullet G(0) = 0; \quad G(5) = \frac{-425}{6}; \quad G(6) = -66$$

$$\bullet \text{Área del recinto I} = |G(5) - G(0)| = \frac{425}{6}$$



$$\text{Área del recinto II} = |G(6) - G(5)| = \frac{29}{6}$$

$$\bullet \text{ Área total} = \frac{425}{6} + \frac{29}{6} = \frac{454}{6} = \frac{227}{3} u^2$$

Ejercicio nº 3.-

A partir de las siguientes probabilidades:

$$P[A] = 0,75; \quad P[B'] = 0,50; \quad P[A' \cap B'] = 0,05.$$

Calcula $P[A \cup B]$, $P[A \cap B]$ y $P[A/B]$.

Solución:

$$\bullet P[A' \cap B'] = P[(A \cup B)'] = 1 - P[A \cup B] = 0,05 \Rightarrow P[A \cup B] = 0,95$$

$$\bullet P[B'] = 0,50 \Rightarrow P[B] = 1 - 0,50 = 0,50$$

$$P[A \cup B] = P[A] + P[B] - P[A \cap B]$$

$$0,95 = 0,75 + 0,50 - P[A \cap B] \Rightarrow P[A \cap B] = 0,3$$

$$\bullet P[A/B] = \frac{P[A \cap B]}{P[B]} = \frac{0,3}{0,5} = 0,6$$

Ejercicio nº 4.-

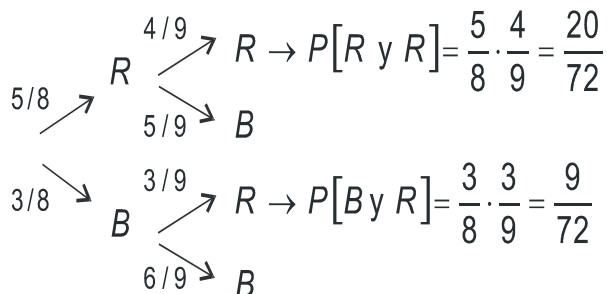
Una urna, I, contiene 5 bolas rojas y 3 blancas. Otra urna, II, tiene 3 bolas rojas y 5 blancas. Se extrae una bola de la urna I y se introduce en la urna II. Finalmente, se extrae una bola de la urna II. Calcula la probabilidad de que:

a) La segunda bola sea roja.

b) La primera sea roja si la segunda lo es.

Solución:

• Hacemos un diagrama en árbol:



$$a) P[2^a R] = \frac{20}{72} + \frac{9}{72} = \frac{29}{72}$$

$$b) P[1^a R / 2^a R] = \frac{P[R \text{ y } R]}{P[2^a R]} = \frac{20/72}{29/72} = \frac{20}{29}$$

Ejercicio nº 1.-

Un ganadero utiliza un pienso que tiene una composición mínima de 12 unidades de una sustancia *A* y otras 21 de una sustancia *B*. En el mercado solo encuentra dos tipos: uno con 2 unidades de *A* y 7 de *B*, cuyo precio es de 15 euros; y otro con 6 unidades de *A* y 3 de *B*, cuyo precio es de 25 euros.

¿Que cantidad ha de comprar de cada uno de modo que el coste sea mínimo?

Solución:

Llamamos *x* a la cantidad que compra del primer tipo e *y* a la cantidad que compra del segundo tipo.

Resumimos los datos en una tabla:

	CANTIDAD	A	B	PRECIO
1 ^{er} TIPO	<i>x</i>	2 <i>x</i>	7 <i>x</i>	15 <i>x</i>
2 ^o TIPO	<i>y</i>	6 <i>y</i>	3 <i>y</i>	25 <i>y</i>
TOTAL		2 <i>x</i> + 6 <i>y</i>	7 <i>x</i> + 3 <i>y</i>	15 <i>x</i> + 25 <i>y</i>

Las restricciones son:

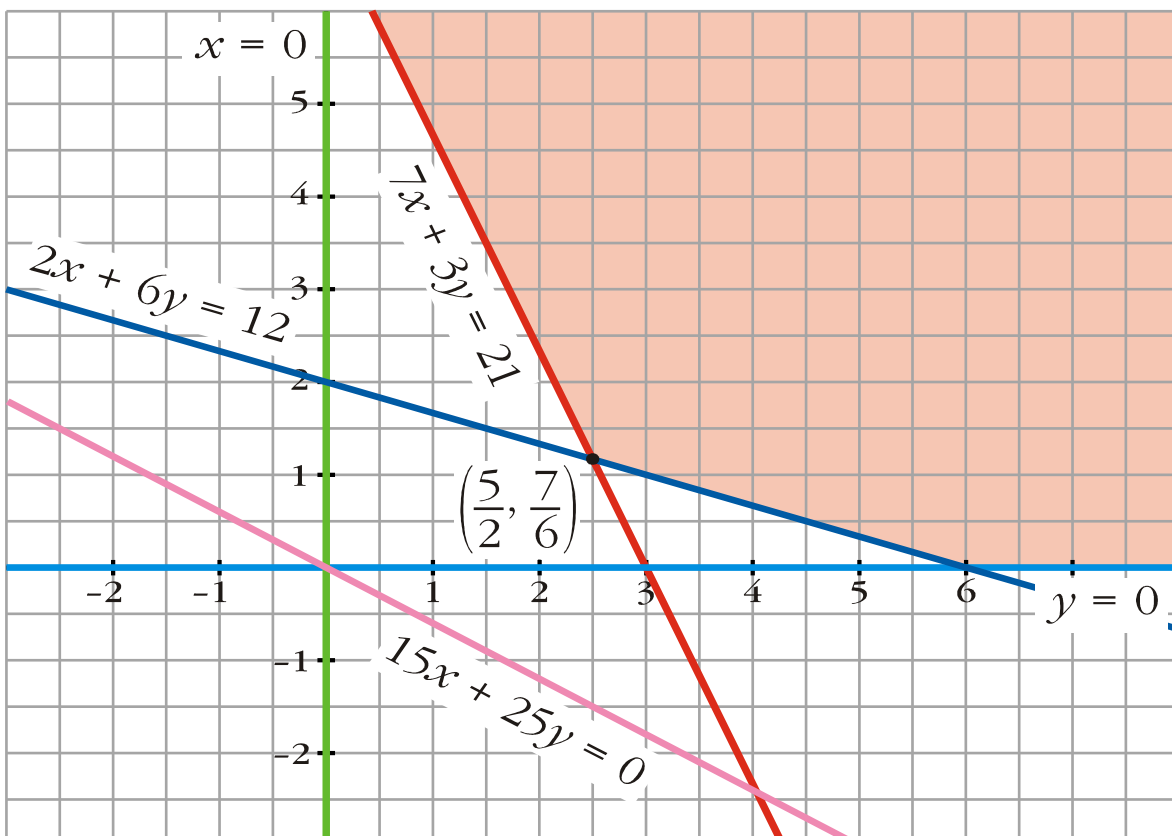
$$\begin{cases} x \geq 0; y \geq 0 \\ 2x + 6y \geq 12 \rightarrow x + 3y \geq 6 \\ 7x + 3y \geq 21 \end{cases}$$

La función que nos da el coste es $z = 15x + 25y$.

Debemos minimizar esta función, sujeta a las restricciones anteriores.

Dibujamos el recinto correspondiente a las restricciones, y la recta $15x + 25y = 0 \rightarrow$

$\rightarrow 3x + 5y = 0$, que nos da la dirección de las rectas $z = 15x + 25y$:



- El mínimo se alcanza en el punto de corte de las rectas $\begin{cases} 7x + 3y = 21 \\ 2x + 6y = 12 \end{cases}$, es decir, en $\left(\frac{5}{2}, \frac{7}{6}\right)$.

Por tanto, ha de comprar $\frac{5}{2}$ del primer tipo y $\frac{7}{6}$ del segundo tipo. En este caso el coste de:

$$z = 15 \cdot \frac{5}{2} + 25 \cdot \frac{7}{6} = \frac{200}{3} \approx 66,67 \text{ euros.}$$

Ejercicio nº 2.-

Dibuja la gráfica de la función:

$$f(x) = (x^2 - x) e^x$$

Solución:

- Dominio = \mathbb{R}
- Asíntotas:

No tiene asíntotas verticales.

$$\lim_{x \rightarrow -\infty} (x^2 - x) e^x = \lim_{x \rightarrow +\infty} (x^2 + x) e^{-x} = \lim_{x \rightarrow +\infty} \frac{x^2 + x}{e^x} = 0$$

$y = 0$ es asíntota horizontal cuando $x \rightarrow -\infty$ ($y > 0$).

$$\lim_{x \rightarrow +\infty} f(x) = +\infty; \quad \lim_{x \rightarrow +\infty} \frac{f(x)}{x} = +\infty \rightarrow \text{Rama parabólica.}$$

- Puntos singulares. Crecimiento y decrecimiento:

$$f'(x) = (2x - 1) e^x + (x^2 - x) e^x = (2x - 1 + x^2 - x) e^x = (x^2 + x - 1) e^x$$

$$f'(x) = 0 \rightarrow x^2 + x - 1 = 0 \rightarrow x = \frac{-1 \pm \sqrt{1+4}}{2} = \frac{-1 \pm \sqrt{5}}{2} \rightarrow \begin{cases} x \approx -1,62 \\ x \approx 0,62 \end{cases}$$

Signo de $f'(x)$:

$$\begin{array}{c} f' > 0 \quad | \quad f' < 0 \quad | \quad f' > 0 \\ \hline \nearrow -1,62 \quad \searrow 0,62 \quad \nearrow \end{array}$$

$f(x)$ es creciente en $(-\infty; -1,62) \cup (0,62; +\infty)$; es decreciente en $(-1,62; 0,62)$. Tiene un máximo en $(-1,62; 0,84)$ y un mínimo en $(0,62; -0,44)$.

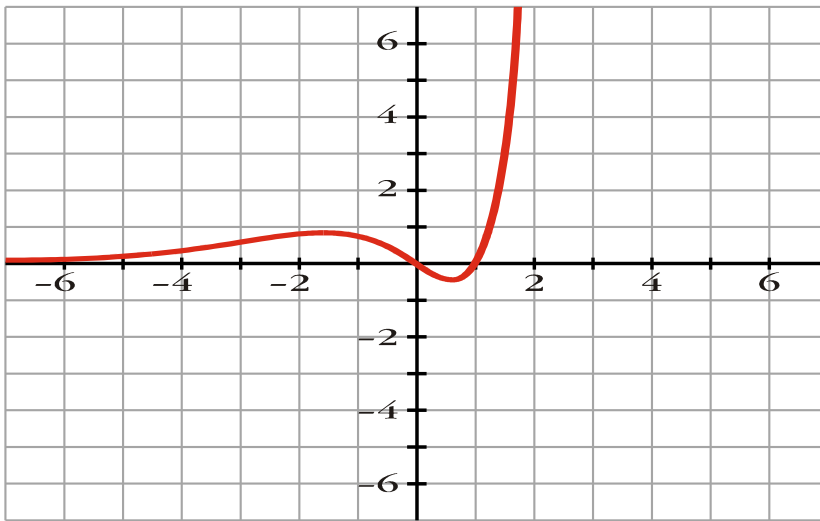
- Puntos de corte con los ejes:

- Con el eje $Y \rightarrow x = 0 \rightarrow y = 0 \rightarrow$ Punto $(0, 0)$

- Con el eje $X \rightarrow y = 0 \rightarrow x^2 - x = 0 \rightarrow x(x - 1) = 0 \rightarrow \begin{cases} x = 0 \\ x = 1 \end{cases}$

Puntos (0, 0) y (1, 0).

- Gráfica:



Ejercicio nº 3.-

Sean A y B dos sucesos tales que:

$$P[A'] = 0,6; \quad P[B] = 0,3; \quad P[A \cap B] = 0,1.$$

Calcula $P[A \cup B]$, $P[A' \cup B']$ y $P[B/A]$.

Solución:

- $P[A'] = 0,6 \Rightarrow P[A] = 1 - 0,6 = 0,4$
 $P[A \cup B] = P[A] + P[B] - P[A \cap B] = 0,4 + 0,3 - 0,1 = 0,6$
- $P[A' \cup B'] = P[(A \cap B)'] = 1 - P[A \cap B] = 1 - 0,1 = 0,9$
- $P[B/A] = \frac{P[B \cap A]}{P[A]} = \frac{0,1}{0,4} = 0,25$

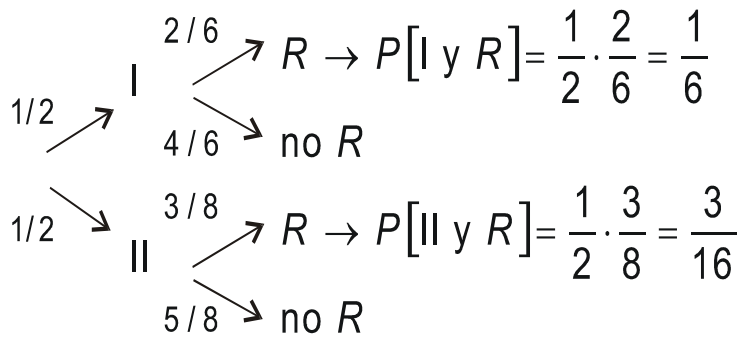
Ejercicio nº 4.-

Una urna, I, contiene 3 bolas blancas, 2 rojas y una negra. Otra urna, II, contiene 2 bolas blancas, 3 rojas y 3 negras. Lanzamos una moneda al aire; si sale cara, extraemos una bola de la urna I, y si sale cruz, sacamos una bola de la urna II.

- ¿Cuál es la probabilidad de que la bola extraída sea roja?
- Si sabemos que la bola extraída ha sido roja, ¿Cuál es la probabilidad de que sea de la urna I?

Solución:

- Hacemos un diagrama en árbol:



a) $P[R] = \frac{1}{6} + \frac{3}{16} = \frac{17}{48}$

b) $P[I/R] = \frac{p[I \text{ y } R]}{p[R]} = \frac{1/6}{17/48} = \frac{8}{17}$