

¡Por fin mi *spinner*!

María quiere comprar un *spinner**.

Tiene 20 € para comprarlo.

Hay 4 modelos en la tienda.



* Un *spinner* es un juguete con aspas que da vueltas.

1

Marca con una **X** la forma de las aspas de cada *spinner*:

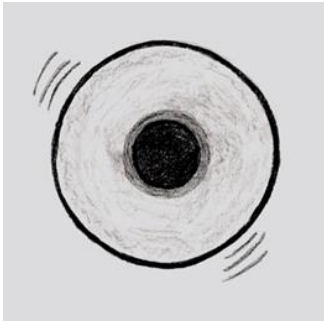
3CM1801

		Pentágono	Cuadrado	Triángulo	Rectángulo
ASPA					
ASPA					
ASPA					
ASPA					

2

Mira el dibujo

3CM1802



Marca con una **X** si las siguientes frases **son verdaderas o falsas**.

	Verdadero	Falso
Se ve un círculo negro en el centro.		
Se ven tres rectángulos y en el centro una circunferencia.		
Se ve un pentágono en el centro.		
Se ve en el borde una línea curva cerrada y negra que representa una circunferencia.		

3

Ayer en la tienda vendieron 42 *spinners*.

3CM1803

Hoy han vendido la **mitad**.

Contesta: ¿**Qué número de *spinners* han vendido hoy?**






RESULTADO: Número de *spinners* vendidos hoy:

4

Mira la TABLA:

3CM1804

04


	7 €	9 €	11 €	8 €
				

Cada *spinner* tiene un precio distinto.Ordena los precios **de menor a mayor**.
 <
 <
 <

5

María tiene 20 €.

3CM1805

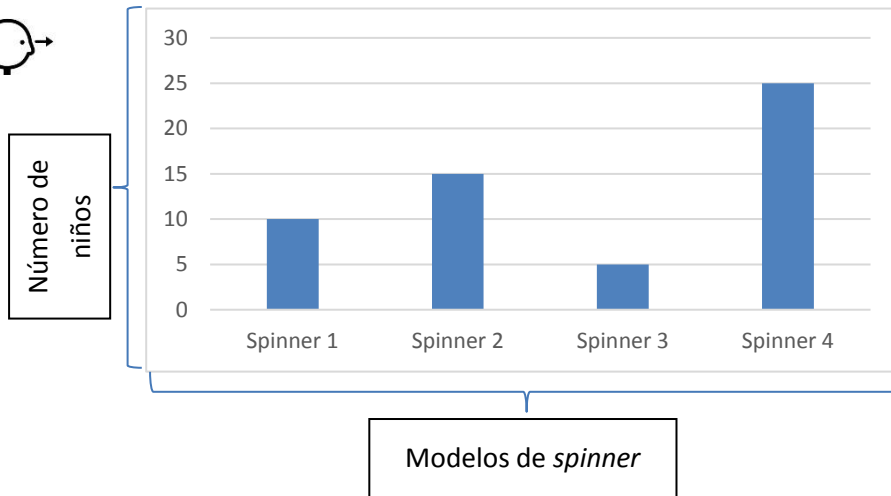
María compra 2 *spinners*.1 *spinner* cuesta 9 €.Marca con una **X** las respuestas correctas:

- ☐ Puede comprar los dos *spinners*.
- ☐ Compra los dos *spinners* y le devuelven dos euros.
- ☐ No tiene dinero suficiente para comprar los dos *spinners*.
- ☐ María tiene que pagar un euro más para comprar los *spinners*.

6

Mira el gráfico.

3CM1806

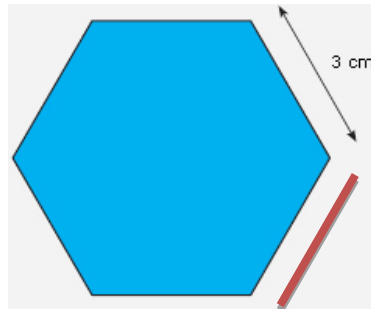
**Marca** con **X** si es **verdadero o falso**:

	Verdadero	Falso
El <i>spinner</i> 1 y el 3 lo llevan 15 niños.		
El <i>spinner</i> número 4 lo tienen solo 20 niños		
El <i>spinner</i> que está más de moda es el número 4.		

7

Mira la forma.

3CM1807



Colocamos una cinta alrededor de toda la forma geométrica.

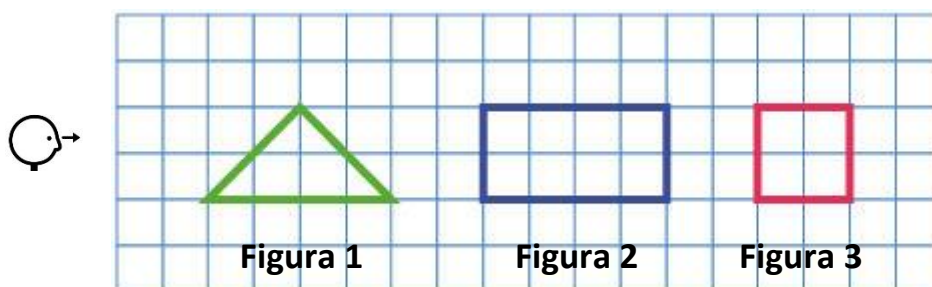
**Rodea** la respuesta correcta. ¿Cuántos centímetros mide la cinta?

- A. 3 cm.
- B. 12 cm.
- C. 18 cm.
- D. 25 cm.

8

Mira las formas.

3CM1808



Recuerda:  +  = 

Cuenta cuadrados y **completa** las frases:

- ✓ La figura 1 ocupa cuadrados.
- ✓ La figura 2 ocupa cuadrados.
- ✓ La figura 3 ocupa cuadrados.