






Monopatín

Marcos es un gran fan del monopatín. Entra en una tienda denominada PATINADORES para mirar algunos precios.

En esta tienda puedes comprar un monopatín completo, o puedes comprar una tabla, un juego de 4 ruedas, un juego de 2 ejes y un conjunto de piezas para montar, y montar tu propio monopatín.

Los precios de estos productos de la tienda son:

Producto	Precio en zeds	
Monopatín completo	82 o 84	
Tabla	40,60 o 65	
Un juego de 4 ruedas	14 o 36	
Un juego de 2 ejes	16	
Un juego de piezas para montar (cojinetes, almohadillas de goma, tornillos y tuercas)	10 o 20	

Pregunta 25: MONOPATIN

Marcos quiere montar su propio monopatín. ¿Cuál es el precio mínimo y el precio máximo de los monopatines montados por uno mismo en esta tienda?

(a) Precio máximo:zeds

(b) Precio mínimozeds

Monopatín: pregunta 25

M520Q01	Puntuación parcial	Aciertos	%
<i>Subescala</i>	Cantidad	<i>OCDE</i>	10,6
<i>Situación</i>	Personal	<i>España</i>	10,1
<i>Competencia</i>	Reproducción	<i>Castilla y León</i>	11,1
<i>Dificultad</i>	464 (nivel 2)	<i>Cataluña</i>	11,1
		<i>País Vasco</i>	9,0

M520Q01	Máxima puntuación	Aciertos	%
<i>Subescala</i>	Cantidad	<i>OCDE</i>	66,7
<i>Situación</i>	Personal	<i>España</i>	66,6
<i>Competencia</i>	Reproducción	<i>Castilla y León</i>	69,6
<i>Dificultad</i>	496 (nivel 3)	<i>Cataluña</i>	71,2
		<i>País Vasco</i>	72,7

*Puntuaciones:***Máxima puntuación**

Código 21: Tanto el mínimo (80) como el máximo (137) correctos.

Puntuación parcial

Código 11: Sólo el mínimo (80) correcto.

Código 12: Sólo el máximo (137) correcto.

Ninguna puntuación

Código 00: Otras respuestas.

Código 99: Sin respuesta.

Pregunta 26: MONOPATÍN

La tienda ofrece tres tablas diferentes, dos juegos diferentes de ruedas y dos conjuntos diferentes de piezas para montar. Sólo hay un juego de ejes para elegir.

¿Cuántos monopatines distintos puede construir Marcos?

- A 6
- B 8
- C 10
- D 12

Monopatín: pregunta 26

M520Q02		Aciertos	%
<i>Subescala</i>	Cantidad	<i>OCDE</i>	45,5
<i>Situación</i>	Personal	<i>España</i>	43,0
<i>Competencia</i>	Reproducción	<i>Castilla y León</i>	47,6
<i>Dificultad</i>	570 (nivel 4)	<i>Cataluña</i>	45,8
		<i>País Vasco</i>	49,4

*Puntuaciones:***Máxima puntuación**

Código 1: D 12.

Ninguna puntuación

Código 0: Otras respuestas.

Código 9: Sin respuesta..

Pregunta 27: MONOPATÍN

Marcos tiene 120 zeds para gastar y quiere comprar el monopatín más caro que pueda.

¿Cuánto dinero puede gastar Marcos en cada uno de los 4 componentes? Escribe tu respuesta en la tabla de abajo.

Componente	Cantidad (zeds)
Tabla	
Ruedas	
Ejes	
Piezas para montar	

Monopatín: pregunta 27

M520Q03		Aciertos	%
<i>Subescala</i>	Cantidad	<i>OCDE</i>	49,8
<i>Situación</i>	Personal	<i>España</i>	46,0
<i>Competencia</i>	Conexiones	<i>Castilla y León</i>	51,8
<i>Dificultad</i>	554 (nivel 4)	<i>Cataluña</i>	49,4
		<i>País Vasco</i>	53,9

*Puntuaciones:***Máxima puntuación**

Código 1: 65 zeds en una tabla, 14 en las ruedas, 16 en ejes y 20 en piezas para montar.

Ninguna puntuación

Código 0: Otras respuestas.

Código 9: Sin respuesta.