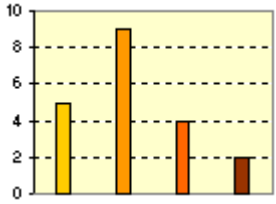
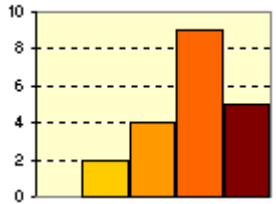



ACTIVIDADES DE ESO

Nome e apelidos do alumno	Curso: 4º
Quincena: 11	Materia: Matemáticas Ensinanzas Aplicadas
Data	Profesor da materia:

1. Para os datos de cada apartado elixe a gráfica máis adecuada a eles.

1) Troita, pescada, sardiña, emperador, pescada, pescada, sardiña, emperador, sardiña e pescada.	2) 1 2 1 2 2 2 3 4 1 2 1 2 3 1 2 2 3 4 2 3	3) 28,1 25,2 28,7 25,7 26 26,4 23,7 22,5 27,5 25,4 27,1 25,9 24,2 28,1 26,3 25,5 24,3 21,8 25,5 24
a) 	b) 	c) 

2. Determina a moda na distribución 1, a mediana na 2 e a media na 3.

a)

b)

c)

3. Determina a desviación típica na distribución 1.

4. A taboa mostra o peso (X) e a altura (Y) de 6 neonatos. Calcula o coeficiente de correlación lineal e explica o tipo de correlación.

X (kg)	3	3,2	3,4	3,6	3,8	4
Y (cm)	47	48	51	50	54	52