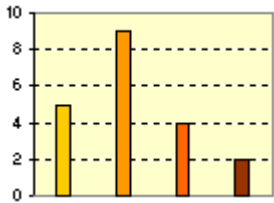
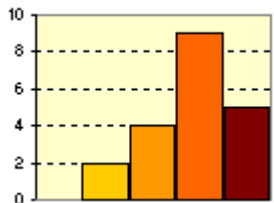



Activitats d'ESO

Nom i cognoms de l'alumne/a:	Curs: 4^o
Quinzena núm: 12	Assignatura: Matemàtiques Ensenyaments Acadèmics
Data:	Professor/a de l'assignatura:

1. Per a les dades de cada apartat trieu el gràfic més adequat.

1) Truita, lluç, sardina, lluç, lluç, sardina, mer, lluç, sardina i mer.	2) 1 2 1 2 2 2 3 4 1 2 1 2 3 1 2 2 3 4 2 3	3) 28,1 25,2 28,7 25,7 26 26,4 23,7 22,5 27,5 25,4 27,1 25,9 24,2 28,1 26,3 25,5 24,3 21,8 25,5 24
a) 	b) 	c) 

2. Determineu la moda en la distribució 1, la mediana en la 2 i la mitja en la 3.

a)

b)

c)

3. Determineu la desviació típica en la distribució 1.

4. La taula mostra el pes (X) i l'altura (Y) de 6 nounats. Calcula el coeficient de correlació lineal i explica el tipus de correlació.

X (kg)	3	3,2	3,4	3,6	3,8	4
Y (cm)	47	48	51	50	54	52