

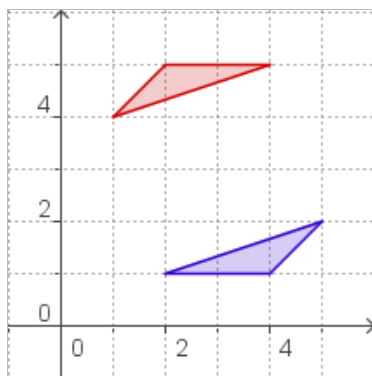
ACTIVIDADES DE ESO

Nome e apelidos:		Curso: 3º
Quincena nº: 7	Materia: Matemáticas	
Data:	Profesor/a:	

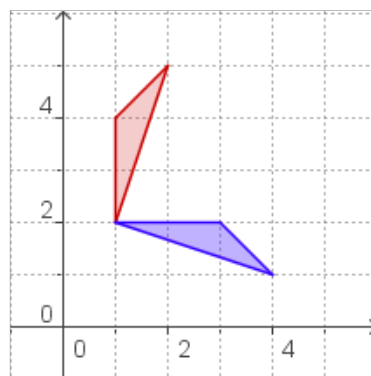
- Ao punto A (1,2) aplícaselle unha translación de vector $u=(3,-5)$ e transfórmase no punto A', ao que se lle aplica unha translación de vector $v=(7,4)$ e se transforma no punto A''. Acha as coordenadas de A''.

- Ao segmento de extremos A(1,5) e B(2,3) aplícaselle primeiro unha simetría a respecto do eixe de abscisas e despois unha simetría a respecto da orixe, acha as coordenadas dos extremos do segmento transformado.

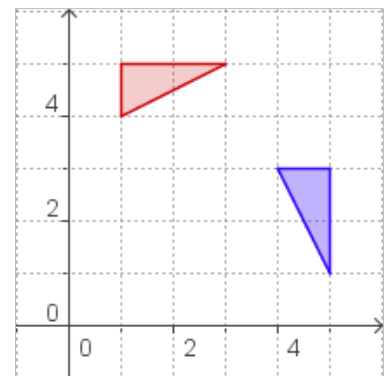
- Acha, en cada caso, o centro de xiro que transforma cada figura vermella na súa homóloga azul.



a)



b)



c)