

mathématiques



1**Els nombres racionals****Continguts**

1. Nombres racionals
Decimals periòdics
Fracció generatriu
Ordenació i representació
2. Operacions amb fraccions
Sumes i restes
Productes i quocients
Operacions combinades
3. Potències d'exponent enter
Definició
Operacions
4. Notació científica
Introducció
Nombres molt grans i nombres molt petits
Operacions
5. Mesura d'errors
Aproximacions
Error absolut i relatiu
6. Aplicacions
Problemes d'aplicació


Objectius

- Identificar, ordenar i representar nombres racionals.
- Efectuar operacions amb fraccions.
- Expressar fraccions com a nombres decimals i nombres decimals com a fraccions.
- Calcular potències amb exponent enter i efectuar operacions amb potències.
- Aproximar nombres i calcular l'error absolut i relatiu.
- Expressar un nombre en notació científica i efectuar operacions amb nombres en aquesta notació.
- Utilitzar els nombres racionals per resoldre problemes relacionats amb la vida quotidiana.

Abans de començar

Per repassar conceptes fonamentals de fraccions, com ara l'obtenció de fraccions equivalents o la reducció de fraccions a denominador comú... [Clica...](#)



Després de repassar, clica  per anar als continguts de la quinzena.

ACTIVITAT:


Observa la figura que apareix a l'escena.

En quants triangles es divideix inicialment? _____

Al final només queden els polígons que es veuen en aquesta figura.

Escriu dins de cadascun la fracció que correspon al seu tamany, considerant el quadrat complet com una unitat.

En tots els casos, escriu aquesta fracció de dues maneres: Simplificada i amb denominador 64.



1. Nombres racionals

1.a. Decimals periòdics

Llegeix el text de la pantalla.

EXERCICI. Completa el text següent:

Una fracció és un _____ entre dos nombres enters.

El resultat d'aquesta divisió és un _____ amb un grup de xifres que _____, anomenat _____, i que pot ser:

	Exemple:	S'escriu:	El període és:
• Decimal _____	$\frac{12}{11} =$ _____		
• Decimal _____	$\frac{31}{15} =$ _____		
• Decimal _____	$\frac{1}{8} =$ _____		

Llegeix l'explicació de l'escena....

Fes l'activitat de l'escena i completa aquest quadre amb els exemples que apareixen i amb quatre exemples més, els que tu triïs.

Fracció	Expressió decimal	Decimal exacte	Decimal periòdic pur	Decimal periòdic mixt	Període
$\frac{15}{11}$	1,363636...	No	Si	No	36
$\frac{12}{7}$					
$\frac{31}{15}$					
$\frac{17}{8}$					


Per què podem afirmar que la representació decimal d'una fracció és sempre un decimal finit o infinit periòdic?

Ara fes clic al botó  para fer uns exercicis.

S'obre una escena en què hi apareix un nombre decimal i has d'indicar de quin tipus és. Completa aquest quadre amb vuit dels exercicis que resolguis en aquesta escena.

Fracció	Nombre decimal	Tipus

Fracció	Nombre decimal	Tipus

Quan acabis ... Clica  per anar a la pàgina següent.

1.b. Fraccions generatrius

Llegeix atentament a l'escena el procediment per a obtenir la fracció generatriu segons els diferents tipus de decimals. Copia en el requadre següent un exemple de cada tipus seguint pas a pas l'explicació de l'escena:

	Exemple	Procés:
• Exacte	$x =$	Multipliquem per 10^{\square} : _____ $x =$ _____ Aïllem: $x =$ _____
• Periòdic pur	$x =$	Multipliquem per 10^{\square} : _____ $x =$ _____ Restem les dues equacions: _____ $x =$ _____ Aïllem: $x =$ _____
• Periòdic mixt	$x =$	Multipliquem per 10^{\square} : _____ $x =$ _____ Multipliquem per 10^{\square} : _____ $x =$ _____ Restem les dues darreres equacions: _____ $x =$ _____ Aïllem: $x =$ _____

A la banda esquerra apareixen els tres tipus de decimals. Si passes el ratolí per sobre de la **paraula destacada** podràs veure l'explicació o fórmula de cadascun dels mètodes.


Escriu-los en el requadre:	Mètode
• Decimal exacte	
• Decimal periòdic pur	
• Decimal periòdic mixt	

Ara clica al botó  per fer uns exercicis.

Apunta quatre resultats en la taula següent:

Nombre decimal	Fracció

Nombre decimal	Fracció

Quan acabis ... Clica  per anar a la pàgina següent.

1.c. Ordenació i representació gràfica


A l'escena inferior esquerra, **COMPARACIÓ DE FRACCIONS**, aprendràs a comparar fraccions amb procediments aritmètics.


En primer lloc, repassa el càlcul del mínim comú múltiple: A l'escena, et proposen que calculis el m.c.m. de dos nombres: calcula'l i, després, fes clic a **COMPROVAR** per veure si el teu càlcul és correcte.

Anota quatre resultats en aquesta taula (practica a l'escena fins a aconseguir un mínim de tres encerts consecutius).

Parell de nombres	Mínim comú múltiple	Parell de nombres	Mínim comú múltiple

En aquesta mateixa escena de **COMPARACIÓ DE FRACCIONS**:

Clica al botó  per repassar el procés de reducció de fraccions a comú denominador.

Llegeix atentament el text en què s'explica com es fa i després clica a  per practicar. Repeteix l'exercici fins a obtenir un mínim de 3 encerts consecutius.

Anota quatre resultats en aquesta taula:

Fraccions	Fraccions amb denominador comú	Fraccions	Fraccions amb denominador comú

Ara ja pots emprendre la **comparació de fraccions**. Clica al botó  per començar.

Fes exercicis de comparació de fraccions positives i de fraccions negatives fins a obtenir un mínim de tres resultats correctes consecutius en cada cas.

Anota sis exercicis en els requadres següents:

Fraccions	Fraccions ordenades	Fraccions	Fraccions ordenades

EXERCICIS de REFORÇ

Ordena els següents parells de fraccions:

a) $-\frac{3}{2}$ i $-\frac{1}{5}$

b) $-\frac{1}{3}$ i $-\frac{1}{2}$

c) $\frac{3}{5}$ i $\frac{8}{15}$

d) $-\frac{3}{5}$ i $\frac{1}{7}$

A l'escena de la dreta, **REPRESENTACIÓ GRÀFICA DE FRACCIONS**, aprendràs a comparar fraccions per procediments gràfics.

Clica a per seguir l'explicació.

Has de veure diversos exemples, fins que entenguis bé el procediment, tant en el cas de fraccions pròpies com impròpies.

Quan ho hagi entès, clica... per fer uns exercicis.

Fes tres exercicis de cada tipus i escriu els resultats a les taules següents:

Fraccions	Fraccions ordenades

Fraccions	Representació gràfica

EXERCICIS

1. Esbrina de quin tipus són els decimals que resulten de les fraccions següents:

a) $\frac{92}{73}$

b) $\frac{57}{22}$

c) $\frac{27}{36}$

2. Calcula les fraccions generatrius dels decimals següents:

a) $x = 2,375$

b) $x = 43,666\dots$

c) $x = 4,3666\dots$

3. Ordena de menor a major les fraccions següents: $\frac{-5}{10}$, $\frac{3}{12}$, $\frac{-9}{9}$, $\frac{9}{5}$, $\frac{-9}{2}$

4. Representa en la recta les fraccions:

a) $\frac{2}{3}$

b) $\frac{19}{4} = 4 + \frac{3}{4}$

c) $-\frac{23}{5} = -5 + \frac{2}{5}$

Quan acabis ... Clica per anar a la pàgina següent.

2. Operacions amb fraccions

2.a. Sumes i restes

Llegeix el text on s'expliquen els procediments per SUMAR i RESTAR fraccions.

EXERCICI 1: Completa.

	Exemple
SUMES: Si les fraccions tenen el mateix denominador _____ _____.	
Si no tenen el mateix denominador, _____ _____.	
RESTES: _____.	

Llegeix atentament l'escena de la dreta per comprendre el procediment a seguir per calcular una suma de fraccions.

EXERCICI 2: Completa.

	Respostes
Escriu la suma que representa la quantitat que ha menjat el primer amic:	— + —
Per calcular aquesta suma cal dividir cadascuna de les pizzes en el mateix nombre de porcions. ¿Quin és el nombre mínim de porcions en què s'han de dividir per poder fer la suma?	
Així podem expressar aquesta suma de fraccions com la suma de dues que tenen el mateix denominador. Indica-la i calcula'n el resultat:	— + — = —

Consulta ara l'escena d'a baix a l'esquerra per conèixer les propietats de la suma de fraccions.

EXERCICI 3: Escriu els noms de les propietats i un exemple de cadascuna.

	Exemple
1	
2	
3	
4	


Clica el botó  Per fer uns exercicis.

Fes quatre exercicis de cada tipus.

Després clica **COMPROVAR** per veure si ho has fet bé.

Utilitza els espais de la taula de la pàgina següent per resoldre'ls.

1 Suma de dues fraccions	Desenvolupament i resultat	1 Suma de dues fraccions	Desenvolupament i resultat
2 Resta de dues fraccions	Desenvolupament i resultat	2 Resta de dues fraccions	Desenvolupament i resultat
3 Suma d'una fracció i un enter	Desenvolupament i resultat	3 Suma d'una fracció i un enter	Desenvolupament i resultat
4 Sumes combinades	Desenvolupament i resultat		

Quan acabis ... Clica  per anar a la pàgina següent.

2.b. Productes i quocients

Llegeix el text on s'expliquen els procediments per a calcular PRODUCTES i QUOCIENTS de fraccions.

EXERCICI 1: Completa:

	Exemple
PRODUCTES: _____.	
La inversa d'una fracció s'obté _____ _____.	
QUOCIENTS: _____.	

EXERCICI 2: Llegeix atentament l'escena de la dreta per comprendre el procediment a seguir en calcular productes de fraccions i completa allò que falta en aquesta taula.

	Respostes
<p>Comencem amb els adossats: Cada fase representa ___ del total. Cada zona d'adossats és ___ de la fase en què es troba. ¿Amb quina operació es calcula la part del total reservada a zona d'adossats de cada fase i quin és el resultat?</p>	<p>___ · ___ = ___</p>
<p>Quina fracció de la parcel·la ocupen els adossats? Hi ha adossats dins de ___ parts de la parcel·la i en cadascuna d'aquestes parts representen ___ de la mateixa. Indica l'operació i el resultat de la fracció del total que ocupen els adossats:</p>	<p>___ · ___ = ___</p>
<p>Quina fracció de la parcel·la ocupen els pisos? Hi ha pisos dins de ___ parts de la parcel·la i en cadascuna d'aquestes parts representen els ___ de la mateixa. Indica l'operació i el resultat de la fracció del total que ocupen els pisos:</p>	<p>___ · ___ = ___</p>
<p>Quina fracció de la parcel·la ocupen les zones verdes? Hi ha zones verdes dins de ___ part de la parcel·la i dins d'ella representen els ___ de la mateixa. Indica l'operació i el resultat de la fracció del total que ocupen les zones verdes:</p>	<p>___ · ___ = ___</p>
<p>Quina fracció de la parcel·la ocupen les zones dotacionals? Hi ha zones dotacionals en ___ part de la parcel·la i dins d'ella representen ___ de la mateixa. Indica l'operació i el resultat de la fracció del total que ocupen les zones dotacionals:</p>	<p>___ · ___ = ___</p>
En resum	<p>___ · ___ = ___</p>

EXERCICI 3: Consulta ara l'escena de la part inferior esquerra per conèixer les propietats del producte de fraccions. Escriu els noms de les propietats i un exemple de cadascuna en aquesta taula.

	Exemple
1	
2	
3	
4	
5	
6	
7	

Clica al botó



per fer uns exercicis.

Fes quatre exercicis de cada tipus. Després clica **COMPROVAR** per a veure si ho has fet bé. Utilitza els espais de la taula per a resoldre'ls.

Producte de dues fraccions	Desenvolupament i resultat	Producte de dues fraccions	Desenvolupament i resultat
Quocient de dues fraccions	Desenvolupament i resultat	Quocient de dues fraccions	Desenvolupament i resultat
Producte d'una fracció i un enter	Desenvolupament i resultat	Producte d'una fracció i un enter	Desenvolupament i resultat
Producte d'un enter i una fracció	Desenvolupament i resultat	Producte d'un enter i una fracció	Desenvolupament i resultat
Quocient d'una fracció i un enter	Desenvolupament i resultat	Quocient d'una fracció i un enter	Desenvolupament i resultat
Quocient d'un enter i una fracció	Desenvolupament i resultat	Quocient d'un enter i una fracció	Desenvolupament i resultat

Quan acabis ... Clica per anar a la pàgina següent.

2.c. Operacions combinades

Llegeix el text en què es recorden les **normes de prioritats**.

EXERCICI 1: Escriu en els cercles el nre d'ordre de l'operació corresponent.

Si no hi ha parèntesis	Ordre en què s'ha de fer	Si hi ha parèntesis	Ordre en què s'ha de fer
Sumes i restes	○	Sumes i restes	○
Productes i quocients	○	Efectuar els parèntesis	○
		Productes i quocients	○

EXERCICI 2: Observa en l'escena diferents exemples de càlcul amb operacions combinades fins que hagi entès bé el procés. Després, fes dos exercicis de cada tipus en els requadres següents, sense consultar la solució fins que els hagi acabat. Comprova després si ho has fet bé:

1	Operacions sense parèntesis	
2	Operacions amb parèntesis	
3	Operacions amb parèntesis dins de parèntesis	

4
Operacions amb parèntesis implícits

--	--

EXERCICIS

5. Calcula $\frac{-1}{11} + \frac{9}{8}$
6. Calcula $\frac{-9}{5} - \frac{-7}{12}$
7. Calcula $\frac{-9}{5} - 7$
8. Calcula $\frac{-9}{5} - \frac{-7}{12} + \frac{2}{10} + 9 - \frac{-8}{5}$
9. Calcula $\frac{-1}{7} \cdot \frac{-6}{-5}$
10. Calcula $\frac{-1}{7} : \frac{-6}{-5}$
11. Calcula $\frac{-1}{7} \cdot (-6)$
12. Calcula $(-6) \cdot \frac{-1}{7}$
13. Calcula $\frac{-1}{7} : (-6)$
14. Calcula $(-6) \cdot \frac{-1}{7}$
15. Calcula $\frac{4}{6} : 4 + \frac{1}{7} - \frac{6}{4} \cdot 3 - \frac{2}{6} - 2$
16. Calcula $\frac{4}{6} + \left(\frac{1}{7} \cdot 7\right) \cdot 7 - \left(\frac{1}{2} + \frac{1}{6} : \frac{7}{6}\right)$
17. Calcula $\frac{\frac{5}{7} + \frac{3}{2}}{\frac{1}{7} + \frac{1}{2}} : \frac{\frac{2}{5}}{\frac{7}{2} + \frac{1}{2}}$

Quan acabis ... Clica  per anar a la pàgina següent.

3. Potències d'exponent enter

3.a. Definició

Llegeix la definició de potència d'exponent enter. Fixa't, sobretot, en la definició de potència d'exponent negatiu.

EXERCICI 1: Completa.

$$a^n = \left\{ \begin{array}{l} \text{Si } n = 1 \\ \text{Si } n > 1 \\ \text{Si } n = 0 \\ \text{Si } n < 0 \end{array} \right.$$

EXERCICI 2: Completa les igualtats següents com a l'exemple:

$$5^{-2} = \frac{1}{5^2} = \frac{1}{25}$$


$$5^{-3} = \text{---} = \text{---}$$

$$3^{-2} = \text{---} = \text{---}$$

$$4^{-2} = \text{---} = \text{---}$$


$$6^{-2} = \text{---} = \text{---}$$

$$7^{-3} = \text{---} = \text{---}$$

Clica al botó  per fer exercicis de càlcul de potències. Escribeu-ne sis a la taula de sota. Després de cada exercici, clica **COMPROVAR** per corregir-lo.

Exercici 1	Exercici 2	Exercici 3
Exercici 4	Exercici 5	Exercici 6

En l'escena de la dreta pots veure les PROPIETATS DE LES POTÈNCIES.

Clica  per avançar per l'escena i anar-les veient.

Escriu les propietats en aquest quadre amb dos exemples de cadascuna.

RECORDA PROPIETATS DE LES POTÈNCIES

1. Per multiplicar potències de la mateixa base:

_____.

Exemples:

--	--

2. Per dividir potències de la mateixa base:

_____.

Exemples:

--	--

3. Per elevar una potència a un exponent:

_____.

Exemples:

--	--

4. Per elevar un producte a un exponent:

_____.

Exemples:

--	--

5. Per elevar una fracció a un exponent:

_____.

Exemples:

--	--

→ NOTA: Llegeix l'explicació de l'ús de parèntesis quan la base és negativa.

Exemples:

--	--

6. Potències d'exponent zero: $a^0 = \underline{\quad}$


Exemples:

--	--

7. Potències d'exponent negatiu: $a^{-n} = \underline{\quad}$

Exemples:

--	--

Quan acabis ... Clica  per anar a la pàgina següent.

3.b. Operacions amb potències

Llegeix l'explicació: "Quan hem d'efectuar operacions combinades..." "


EXERCICI: Completa a continuació les **normes de prioritats** quan hi ha potències.

- S'efectuen en primer lloc: _____.
- Tot seguit _____.
- Amb els resultats obtinguts es fan les _____.
- Les prioritats anteriors es poden alterar amb _____, o també si es poden aplicar algunes de les propietats que hem vist a la pàgina anterior (productes o quocients de potències amb la mateixa base).

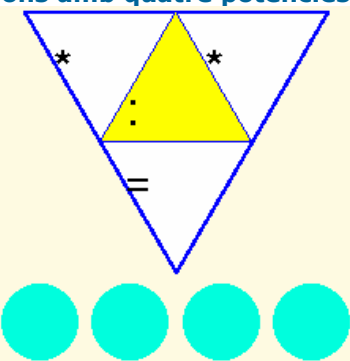

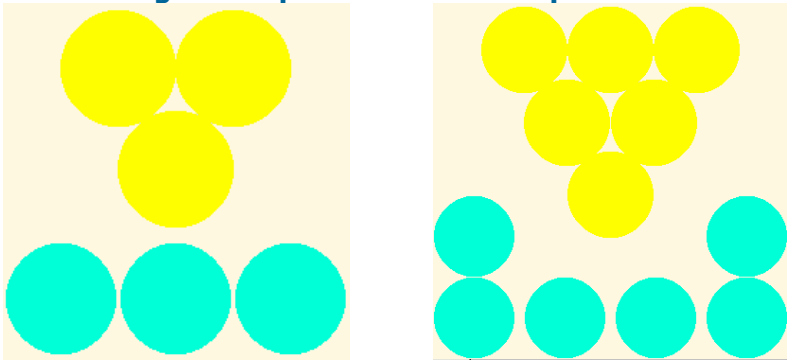


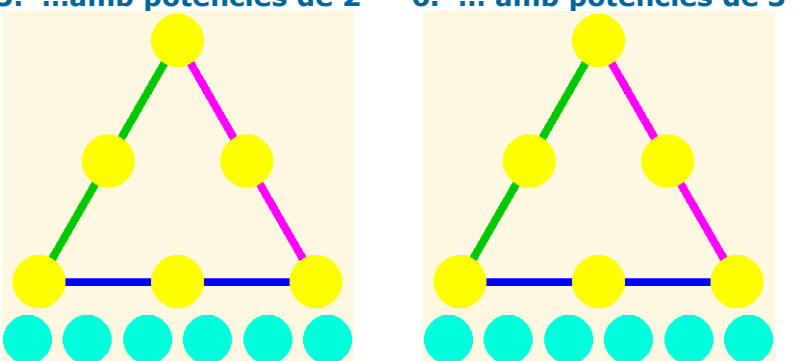
EXERCICI 2: Observa a l'escena diferents exemples de càlcul amb operacions combinades que inclouen potències. Tot seguit, fes dos exercicis de cada tipus en els requadres següents, sense consultar la solució fins que els hagis acabat. Comprova després si ho has fet bé.

1	Operacions senzilles
Exemple 1.1:	
Exemple 1.2:	
2	Transformar nombres en potències
Exemple 2.1:	
Exemple 2.2:	
3	Productes i quocients de potències de la mateixa base
Exemple 3.1:	
Exemple 3.2:	

4	Potències del mateix exponent
Exemple 4.1:	
Exemple 4.2:	

Fes clic al botó  i aniràs a una pàgina de jocs amb potències.

Ara, escriu a cada lloc un dels resultats dels jocs que vas resolent:

<p>1. Triangle de multiplicacions i divisions amb quatre potències.</p> 	<p>2. Triangles de quocients amb potències de 2.</p> 
<p>3. Triangles de quocients amb les potències de 10</p> 	<p>4. Triangle de quocients amb potències</p> 
<p>4. Triangle de quocients amb potències</p> 	<p style="text-align: center;">Triangles màgics multiplicatius</p> <p>5. ...amb potències de 2 6. ... amb potències de 3</p> 

<p>7. Triangle màgic multiplicatiu amb potències</p>	<p>Tres anelles màgiques multiplicatives</p> <p>8. ... amb potències de 10 9. ... amb potències</p>	
<p>10. Estrella màgica multiplicativa de tres puntes, amb nou potències de 2</p>	<p>11. Estrella màgica multiplicativa de sis puntes, amb potències</p>	<p>12. Quadrat màgic multiplicatiu de 3x3 amb les potències de 2</p>

EXERCICIS

- | | |
|---|--|
| <p>18. Calcula $\left(\frac{5}{9}\right)^4$</p> <p>20. Calcula 3^{-4}</p> <p>22. Calcula $-\frac{5}{3} - \left(\frac{1}{2}\right)^3 : \frac{6}{7} : \frac{3}{4} : (-1)^0$</p> <p>23. Transforma 1000 en potència de 10.</p> <p>24. Transforma 0,00001 en potència de 10.</p> <p>25. Transforma 16 en potència de 2.</p> <p>26. Transforma 0,0016 en potència de 5.</p> <p>27. Expressa cada terme com a potència de 10 i simplifica: $\frac{(-0,1)^{-2} : (-1000)^2 \cdot (0,01)^2}{0,01^{-2} \cdot 10^{-2}}$</p> | <p>19. Calcula $-\left(\frac{-2}{5}\right)^{-2}$</p> <p>21. Calcula $\left(\frac{1}{2}\right)^{-3}$</p> <p>28. Expressa cada terme com a potència de 4 i simplifica: $16 \cdot \frac{1}{(-64)^{-2}} \cdot \frac{1}{64^{-2}} : \frac{1}{(-64) : 4}$</p> <p>29. Simplifica tant com es pugui la següent fracció de manera que el resultat quedi en forma de productes i quocients de potències d'exponent positiu: $\left(\frac{(2^{-2} \cdot 3)^2 \cdot 5^3}{2^3 \cdot (3 \cdot 7^3)^2}\right)^2$</p> |
|---|--|

Quan acabis ... Clica per anar a la pàgina següent.

4. Notació científica


4.a. Productes i quocients per potències de 10

Llegeix el text per tal de repassar les regles de càlcul del producte i la divisió d'un nombre per una potència de 10.

EXERCICI: Completa.

- **Multiplicar per 10^n** (equivale a _____)
 - Si el nombre és enter _____.
 - Si no és enter _____.
- **Dividir per 10^n** (equivale a _____)
 - _____.


Després, ves a l'escena i llegeix tants exemples com calgui fins que compreguis el procediment. Copia un d'aquests exemples a l'espai següent:

Clica al botó  Per fer exercicis de productes i quocients per potències de 10.

Resol-ne almenys sis i escriu-los aquí.

Clica **COMPROVAR** després de resoldre cadascun per veure si l'has fet bé.

Operació	Resultat	Operació	Resultat
Operació	Resultat	Operació	Resultat
Operació	Resultat	Operació	Resultat

Quan acabis ... Clica  per anar a la pàgina següent.

4.b. Nombres molt grans o molt petits

Llegeix l'explicació: "Es diu que un nombre..."

EXERCICI 1: Completa:

La notació científica és útil per a representar nombres _____ o _____ . Aquests nombres apareixen sovint en _____ , d'aquí el seu nom.

Si un nombre està escrit en notació científica, té l'aparença **$C_0, C_1 C_2 \dots C_p \cdot 10^n$**

C_0 és una xifra _____ de zero i l'**ordre de magnitud** del nombre és _____ .

En l'escena, apareixen exemples de situacions en les quals es treballa amb nombres molt grans o molt petits. Llegeix-los atentament.





EXERCICI 2: Completa:

Diàmetre de la galàxia Andròmeda, amb totes les seves xifres:	
Diàmetre de la galàxia escrit en Notació Científica :	
Quin és l'ordre de magnitud del diàmetre d'aquesta galàxia?	
Distància de la nostra galàxia a la galàxia Andròmeda:	
Quin és l'ordre de magnitud d'aquesta distància?	
¿Quantes vegades, aproximadament, és més gran la distància a la galàxia Andròmeda que el diàmetre d'aquesta galàxia?	
Diàmetre del nostre Sistema Solar:	
Quin és l'ordre de magnitud del diàmetre del Sistema Solar?	
Distància de La Terra a la Lluna:	
Quin és l'ordre de magnitud de la distància Terra-Lluna?	
¿Quantes vegades, aproximadament, és més gran el diàmetre del Sistema Solar que la distància Terra-Lluna?	

EXERCICI 3: En la mateixa escena, passem al "món d'allò molt petit". Completa:

$10^{-1} = \text{---} = 0' \text{---}$	$10^{-3} = \text{---} = 0' \text{---}$	$10^{-5} = \text{---} = 0' \text{---}$
$10^{-2} = \text{---} = 0' \text{---}$	$10^{-4} = \text{---} = 0' \text{---}$	$10^{-6} = \text{---} = 0' \text{---}$
Tamany d'una puça:		Ordre de magnitud
Mesura d'una aresta de silici		Ordre de magnitud
Mesura d'una escata de l'ala d'una papallona		Ordre de magnitud

Mesura d'una bactèria del còlera		Ordre de magnitud	
Mesura d'un virus		Ordre de magnitud	
Diàmetre d'un àtom d'oxigen		Ordre de magnitud	
Diàmetre del nucli d'un àtom d'oxigen		Ordre de magnitud	
Quants àtoms d'oxigen caben dins d'un virus, aproximadament?			
¿Quantes vegades cabria el nucli al llarg d'un àtom d'oxigen, aproximadament?			

Clica  Per fer exercicis. En  trobaràs instruccions per introduir nombres en notació científica. Llegeix-les atentament, perquè et caldran pels exercicis següents. En  i  trobaràs exercicis per practicar el pas de notació decimal a científica i a l'inrevés. Fes sis exercicis de cada tipus a la taula següent:

 **Pas de forma decimal a científica**

Notació decimal	Notació científica	Notació decimal	Notació científica

 **Pas de forma científica a decimal**

Notació decimal	Notació científica	Notació decimal	Notació científica

Quan acabis ... Clica  per anar a la pàgina següent.

4.c. Operacions en notació científica

Llegeix l'explicació: "Els nombres escrits en notació científica només se solen presentar en..." "

EXERCICI 1: Completa les fórmules per multiplicar i dividir potències de 10.

$x = a \cdot 10^n$ $y = b \cdot 10^m$	\gg	$x \cdot y = \underline{\quad} \cdot 10$	$\frac{x}{y} = \underline{\quad} \cdot 10$
--	-------	--	--

EXERCICI 2: Completa:

Distància de la nostra galàxia a la galàxia Andròmeda:	
Diàmetre de la galàxia Andròmeda:	
Comparació entre els ordres de magnitud (fet abans):	
Quocient entre les mesures completes:	

Clica el botó per fer exercicis d'operacions en notació científica.

Escriu-ne sis en la taula següent. Després de resoldre cada exercici, fes clic a **COMPROVAR** per corregir-lo.

Operació	Resultat

EXERCICIS

30. Calcula: $63.785 \cdot 10^8$
31. Calcula $133,75078 \cdot 10^{10}$
32. Calcula: $30189 \cdot 10^{-2}$
33. Calcula: $626,2 \cdot 10^{-5}$
34. Passa a forma científica el nombre 94494000
35. Passa a forma científica el nombre 0,0000007308
36. Efectua l'operació següent i deixa el resultat en notació científica:
 $(5,6733 \cdot 10^2) \cdot (1,6258 \cdot 10^{-6})$
37. Efectua l'operació següent i deixa el resultat en notació científica:
 $(1,2319 \cdot 10^{-9}) \cdot (8,4798 \cdot 10^{-1})$
38. Efectua l'operació següent i deixa el resultat en notació científica: $\frac{9,9989 \cdot 10^{11}}{1,6422 \cdot 10^{-10}}$
39. Efectua l'operació següent i deixa el resultat en notació científica: $\frac{1,3472 \cdot 10^{-10}}{3,217 \cdot 10^4}$

Quan acabis ... Clica per anar a la pàgina següent.

5. Mesura d'errors

5.a. Aproximacions

EXERCICI 1: Llegeix l'explicació: "A la vida real se solen presentar..." i contesta.

¿En quines situacions es calcula amb valors aproximats?

A l'escena pots veure tres botons que et permeten accedir a exemples d'aproximacions.

Clica: **Aproximacions amb enters**

S'obre un quadre amb diversos exemples trets de buscadors d'Internet.

Completa les dades que falten en els següents requadres:

Buscador	Resultats	Arrodoniment a les...	Valor exacte entre:
Google			
Ask			
Yahoo			

Clica: **Aprox. en càlculs no exactes**

S'obre un quadre amb una factura. Completa les dades que falten en els requadres:

Preu del llibre sense IVA	Import IVA	IVA aprox. con dues xifres	Preu final

Clica:

Aproximacions en mesures

En l'escena apareix un segment blau. Pots mesurar-lo utilitzant el regle que apareix en l'escena. Completa les dades que falten en els següents requadres:

Aproximació per defecte	Aproximació per excés	Valor més probable

EXERCICI 2: Respon:

Com s'arrodoneix una quantitat a un ordre determinat? Posa un exemple.

Clica el botó



per fer exercicis d'aproximacions. Després de resoldre cada

 exercici, fes clic a **COMPROVAR** per corregir-lo i a **UN ALTRE EXEMPLE** per generar-ne un de nou.

Quantitat	Aproximació	Expressió en notació científica

Quan acabis ... Clica per anar a la pàgina següent.

5.b. Error absolut i error relatiu

Llegeix l'explicació: "Presentem aquí un seguit de mesures..."

EXERCICI: Completa les següents definicions tot seguit:

- **Error absolut:** És la diferència entre _____ i el _____.
Té _____ que els valors que s'utilitzen.
- **Cota de error:** És la _____ en el qual es pot trobar el valor exacte.
Aquesta mesura s'utilitza quan _____.
- **Error relatiu:** És el quocient entre _____ i _____.
No té _____ i es pot expressar també _____.

A l'escena de la dreta pots veure exemples d'aquestes mesures.

Exemple 1: La factura	
Preu sense IVA	
Valor exacte de l'IVA	
Valor aproximat (dues xifres)	
Error absolut	
Error relatiu	

Exemple 2: Els buscadors		
	Google	Ask
Valor exacte		
Valor aproximat		
Cota d'error		
Error relatiu		

Exemple 3: La factura		Cota d'error
Aproximació per defecte		0,1
Aproximació per excés		
Valor més probable		

Clica el botó



Per fer exercicis d'aproximacions. Després de resoldre cada

exercici, fes clic a **COMPROVAR** per corregir-lo i a **UN ALTRE EXEMPLE** per generar-ne un de nou.

Quantitat	Aproximació	Error absolut	Error relatiu

EXERCICIS

40. Arrodoneix a les centèsimes 171,39664703
41. Arrodoneix a les deumil.lèsimes i passa a notació científica 0,0065439
42. Arrodoneix a les desenes de miler i passa a notació científica 859.417.590
43. 460.000.000 és un arrodoniment a les desenes de milió de 456.099.072. Calcula l'error absolut i el relatiu.

Quan acabis ... Clica per anar a la pàgina següent.

6. Aplicacions

6.a. Problemes d'aplicació

Clica als botons superiors  per accedir als diferents exercicis.

Un cop resolt, clica a **COMPROVAR** per corregir-los.

PROBLEMA 1

La piscina d'un xalet disposa de dues entrades d'aigua per omplir-la. Si només s'utilitza la primera, la piscina triga ___ ___ hores en omplir-se. Si s'utilitza només la segona, tarda ___ ___ hores. Quant trigarà en omplir-se si s'utilitzen les dues a la vegada?

PROBLEMA 2

El **triangle de Sierpinski** és una figura geomètrica d'un tipus especial anomenat **fractal**. Es construeix així:

Es parteix d'un triangle equilàter.

Nivell 1: S'elimina el triangle que uneix els punts mitjans.

Nivell 2: Es repeteix el procés amb els tres triangles que queden.

Nivell 3: Es repeteix el procés amb els nou triangles que queden.

Encara que aquí només es veuen 4 etapes, el procés segueix indefinidament.

Si l'àrea del triangle inicial és d' 1 m^2 , quant val l'àrea del triangle de Sierpinski de nivell 4?

PROBLEMA 3

L'aire pressiona sobre cada centímetre quadrat de la superfície terrestre amb la força d'1 kg. Si la superfície del planeta és de, aproximadament, 510 milions de quilòmetres quadrats, Quant pesa l'atmosfera?

Si la massa de la Terra es d'unes $6 \cdot 10^{21}$ Tm, quantes vegades és més pesat el planeta que l'atmosfera?

PROBLEMA 4

En joieria s'utilitza l'**unça troy** com a unitat de pes per l'or. Una unça troy pesa 31,1034768 g.

Si el preu de l'or és de 273 €/oz, calcula el preu d'un gram d'or.

Un joier que treballa l'or disposa d'una balança que comet un error màxim de 5 centèsimes de gram per gram. Amb el preu anterior, calcula quant pot guanyar o perdre per cada unça i per cada gram a causa de l'error.



Recorda el més important – RESUM

Completa:

Un nombre racional és: _____.

Tot nombre racional es pot expressar com _____.

Els nombres racionals estan _____ i es poden _____.

Els nombres enters _____.

Operacions amb fraccions

Sumar i restar: _____.

Multiplicar i dividir: _____.

Per elevar a un exponent: _____.

Mesura d'errors

L'error absolut és _____.

L'error relatiu és _____.

La cota d'error és _____.

Prioritats en les operacions (quan intervenen potències)

- 1) _____
- 2) _____
- 3) _____
- 4) _____

Potències


Si $n > 0$, $a^n =$ _____

Si $a \neq 0$, $a^0 =$ _____ i $a^{-n} =$ _____ En particular: $a^{-1} =$ _____ i $\left(\frac{a}{b}\right)^{-n} =$ _____

Notació científica

Els nombres molt grans o molt petits s'expressen en notació científica: _____.

Per operar amb nombres en notació científica apliquem _____.

Clica  per anar a la pàgina següent



Per practicar

A la pàgina d' EXERCICIS, en trobaràs de diferents tipus:


- Problemes per practicar les operacions amb fraccions
- Problemes amb potències i notació científica
- Problemes amb valors aproximats

Problemes per practicar les operacions amb fraccions

Per començar, clica en el control Tria opció per escollir el tipus de problema que prefereixis.


Convé que resolguis un problema de cada tipus. A l'enunciat, omple l'espai reservat a la dada o dades que falten, i després resol el problema.

<p>1. Problemes d'urbanisme</p> <p>L'ajuntament d'una ciutat ven ____ d'un solar a una empresa i ____ de la resta a una altra. Queden sense vendre ____ ha. Quina superfície té el solar?</p>	
<p>2. Amb IVA o sense IVA?</p> <p>L'import de la reparació d'un cotxe en un taller és de ____ € sense IVA. Quant puja la factura amb IVA? (L'IVA és del ____ %).</p>	
<p>3. Les rebaixes</p> <p>Per un vestit hem pagat ____ . € i a l'etiqueta ens indiquen que se li ha aplicat una rebaixa del ____ . %. Quin era el preu del vestit abans del descompte?</p>	
<p>4. El celler</p> <p>Quina quantitat de vi hi ha emmagatzemat en ____ caixes i ____ , si cada caixa conté ____ . ampolles de ____ litre cada una?</p>	
<p>5. Omplint un dipòsit</p> <p>Una font omple un dipòsit en ____ hores i una altra en ____ hores. Quina fracció del dipòsit omple cada una en una hora? I les dues juntes? Quant trigaran en omplir-lo les dues a la vegada?</p>	
<p>6. A quin preu està el cafè?</p> <p>En un magatzem venen cafè en paquets de ____ kg i descafeïnat en paquets de ____ kg. El preu per kg de les dues varietats és el mateix.</p> <p>Un bar ha comprat ____ paquets de normal i ____ de descafeïnat, i en total ha pagat ____ €. Quin és el preu del kg de cafè?</p>	

Clica  per anar a la pàgina següent


Problemes amb potències i notació científica

<p>1. Còpia de seguretat</p> <p>Vull fer una còpia de seguretat dels arxius del meu PC, que ocupen ____ GB. Quants DVD's de 4,5 GB necessito com a mínim per fer-ho? I si faig servir CD's de 700 MB? I amb disquets antics d' 1,4 MB? I amb els antiquíssims de 360 MB? (Utilitza la taula adjunta).</p>	
<p>2. La densitat dels planetes</p> <p>Sabent que el radi de ____ és de ____ km, calcula el seu volum. Si la seva massa és de ____ kg, calcula la seva densitat en g/cm³.</p>	
<p>3. El pes de les molècules</p> <p>En condicions normals, en un mol de _____ hi ha $6,022 \cdot 10^{23}$ molècules d'aquest gas i pesen ____ g. Calcula el pes en grams d'una molècula de _____</p>	

Quan acabis ... Clica  per anar a la pàgina següent.

Problemes amb valors aproximats

<p>1. Mesurant terrenys</p> <p>Mesurem una parcel·la rectangular amb una corda molt llarga amb marques a cada metre (mesures al marge). Repetim les mesures amb un teodolit, millorant la precisió. Calcula les cotes d'error que es produeixen al calcular la superfície en cada cas. Amb el preu que s'indica, calcula les majors diferències de cost en cada cas segons la mesura que agafem.</p>	
<p>2. Enquesta electoral</p> <p>Una empresa de demoscòpia ha fet una enquesta d'intenció de vot, i ha obtingut els resultats que veus al marge. Amb aquestes dades la cadena de televisió ABCD informa que el ____ guanyarà les eleccions. Per altra banda, la cadena DCBA diu que hi ha un empat tècnic entre PBP i PTC. Qui creus que té raó?</p>	

Clica  per anar a la pàgina següent

Autoavaliació



Completa aquí cada un dels enunciats que van apareixent a l'ordinador i soluciona'ls. Després introdueix el resultat per a comprovar si la solució és correcta.

	Enunciat	Solució	Correcció	
1	Escriu la fracció generatriu del número _____			
2	Ordena de menor a major les fraccions següents: ____ / ____ / ____ / ____ / ____ /			
3	Calcula el resultat de _____			
4	Calcula el resultat de _____			
5	Calcula el resultat de _____			
6	Calcula el resultat de _____			
7	Calcula _____ i deixa el resultat en forma de productes o quocients de potències d'exponent positiu.			
8	Calcula el resultat de _____			
9	Arrodoneix el nombre _____ a les _____			
10	Un obrer triga _____ dies en fer una tanca. Un altre triga _____ dies. Quant trigarien treballant junts?			

Activitats per enviar al tutor

Fes les activitats i envia-les al teu professor/a seguint les seves instruccions. Finalment, no oblidis visitar l'enllaç **Per saber-ne més** per ampliar els teus coneixements.