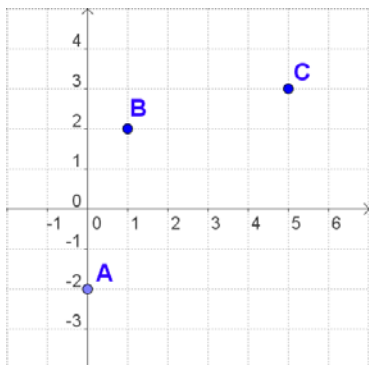


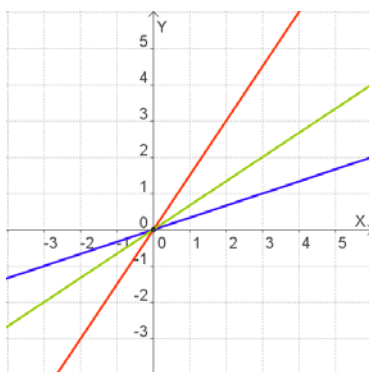
## ACTIVIDADES DE ESO

Nombre y apellidos del alumno:	Curso: <b>1º</b>
Quincena nº: <b>11</b>	Asignatura: <b>Matemáticas</b>
Fecha:	Profesor de la asignatura:

1. Escribe las coordenadas de los puntos de la gráfica y las de un cuarto, D, de manera que el polígono ABCD sea un rombo.:

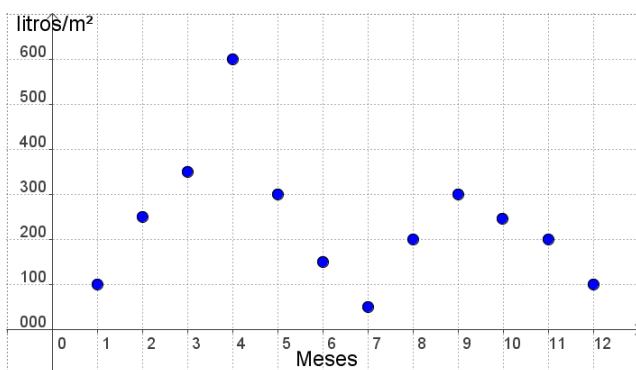


2. Completa la tabla de proporcionalidad directa siguiente e indica el color de la gráfica que la representa:



x	1	2	3
y		3	4,5

3. El gráfico representa las precipitaciones en determinada zona a lo largo de un año, en litros/m<sup>2</sup>, si 1 corresponde a enero, 2 a febrero y así sucesivamente:



- a) En qué mes llovió más?
- b) ¿Cuál fue el mes más seco?
- c) ¿Cuánto llovió en agosto?