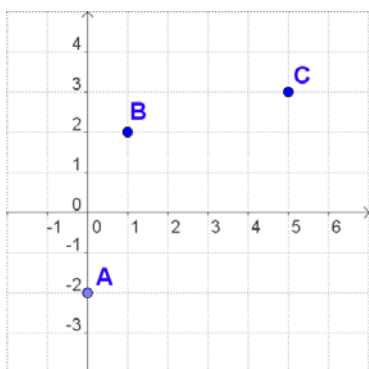


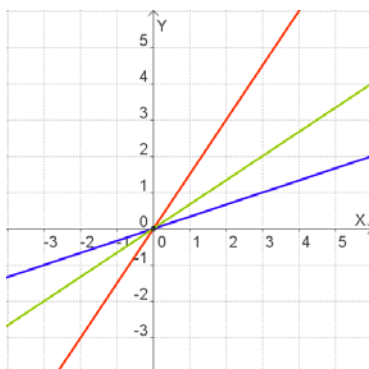
## ACTIVIDADES DE ESO

|                        |                             |
|------------------------|-----------------------------|
| Nome e apelidos:       | Curso: <b>1º</b>            |
| Quincena nº: <b>11</b> | Materia: <b>Matemáticas</b> |
| Data:                  | Profesor/a:                 |

1. Escribe as coordenadas dos puntos da gráfica e as dun cuarto punto, D, de maneira que o polígono ABCD sexa un rombo.:

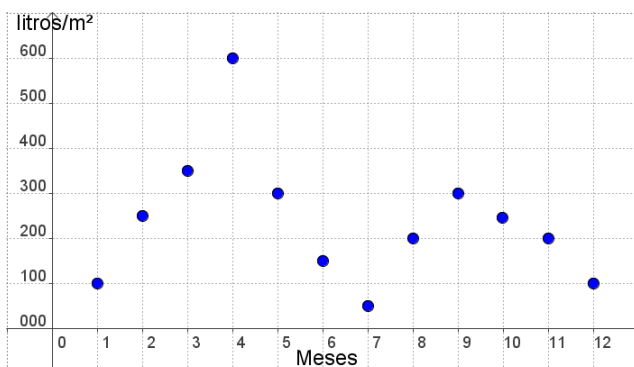


2. Completa a táboa de proporcionalidade directa seguinte e indica a cor da gráfica que a representa:



|   |   |   |     |
|---|---|---|-----|
| x | 1 | 2 | 3   |
| 0 | y | 3 | 4,5 |

3. A gráfica representa as precipitacións en determinada zona ao longo dun ano, en litros/m<sup>2</sup>, se 1 corresponde a xaneiro, 2 a febreiro e así sucesivamente:



- a) En que mes choveu máis?
- b) Cal foi o mes máis seco?
- c) Canto choveu en agosto?