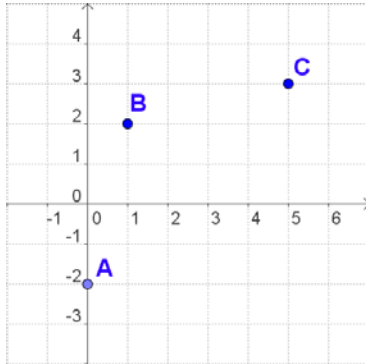


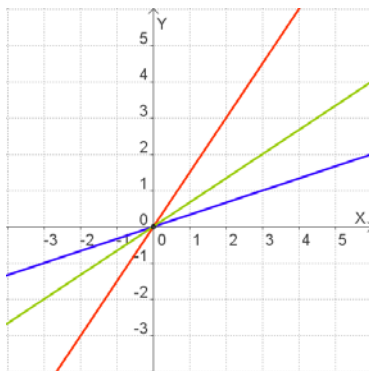
ACTIVITATS D'ESO

Nombre y apellidos del alumno:	Curso: 1º
Quincena nº: 11	Asignatura: Matemáticas
Fecha:	Profesor de la asignatura:

1. Escriu les coordenades dels punts de la gràfica i les d'un quarto, D, de manera que el polígon ABCD sigui un rombe.:

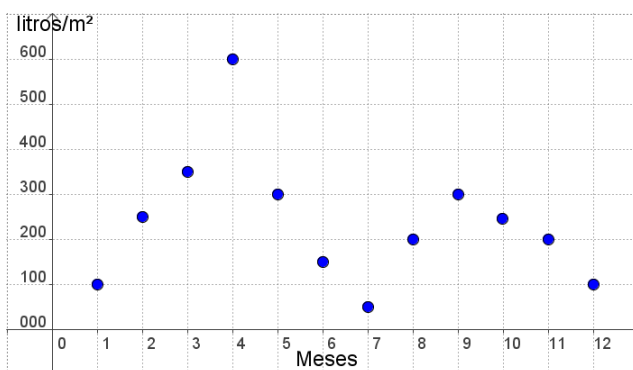


2. Completa la taula de proporcionalitat directa següent i indica el color de la gràfica que la representa:



x	1	2	3
0	y	3	4,5

3. El gràfic representa les precipitacions en una determinada zona al llarg d'un any, en litres/m², si 1 correspon a gener, 2 a febrer i així successivament:



- a) En quin mes va ploure més?
- b) Quin va ser el mes més sec?
- c) Quant va ploure l'agost?