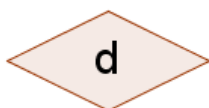

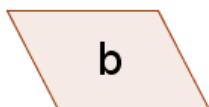
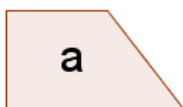


ACTIVITATSS D'ESO

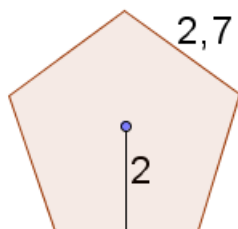
Nom i cognoms de l'alumne/a:		Curs: 1r
Quinzena núm.: 9	Matèria: Matemàtiques	
Data:	Professor/a de la matèria:	

1. Classifica i anomena els següents quadrilàters:

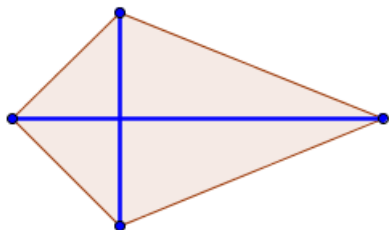


- a)
b)
c)
d)

2. Calcula l'àrea del pentàgon regular de la figura (les mesures estan en cm):



3. Per fabricar un estel hem unit dos llistons de 60 cm i 105 cm com indica la figura. Quants m^2 de tela fan falta per cobrir-lo?



4. Volem tancar una parcel·la rectangular. Si la seva superfície és de 108 dam^2 i un dels seus costats mesura 90 m, quants metres de tanca necessitarem?